

PLAN DE MEJORAMIENTO COMPONENTE BIOFISICO

CLEI TRES PERIODO 4

NOMBRES Y APELLIDOS _____ FECHA _____

1. Llene el siguiente cuadro

REINO	CELULA	NUMERO DE CELULA	NUTRICIÓN
Animal			
Mónera			
Fungi			
Vegetal			
Protista			








2. La mayoría de los animales, entre ellos los vertebrados nos reproducimos sexualmente, dependiendo del tipo de desarrollo del organismo se clasifica en: ovíparos, ovovivíparos, vivíparos y ovulíparos.

Ubica en el siguiente cuadro el tipo de desarrollo de los siguientes animales.

ANIMAL	REPRODUCCIÓN
Hombre	
Gallina	
Perro	vivíparos
Serpiente	
Peces	
Loro	
Gato	
Ballena	
cocodrilo	

3. Relaciona las columnas

Reinos o grupos	organismos
-----------------	------------

mamífero	
angiosperma	
insecto	
protista	
bacteria	
angiosperma	
reptil	

4. ESPECIE: conjunto de individuos con características similares que en condiciones normales pueden reproducirse y **dar descendencia fértil**

Teniendo en cuenta la deficiencia de especie, diga que organismos pueden reproducirse y cuales no, sustente su respuesta.

- a. Perro y zorro
 - b. Oso pardo y el oso de ante ojo
 - c. Vaca y leon
 - d. Gato y perro
 - e. Hombre negro y mujer amarilla
5. Cual es la diferencia entre un taxónomo y un cladista?
 6. Que importancia tiene para la humanidad los científicos que se dedicaron a clasificar los diferentes seres vivos?
 7. Que tiene en comun todos los seres vivos?